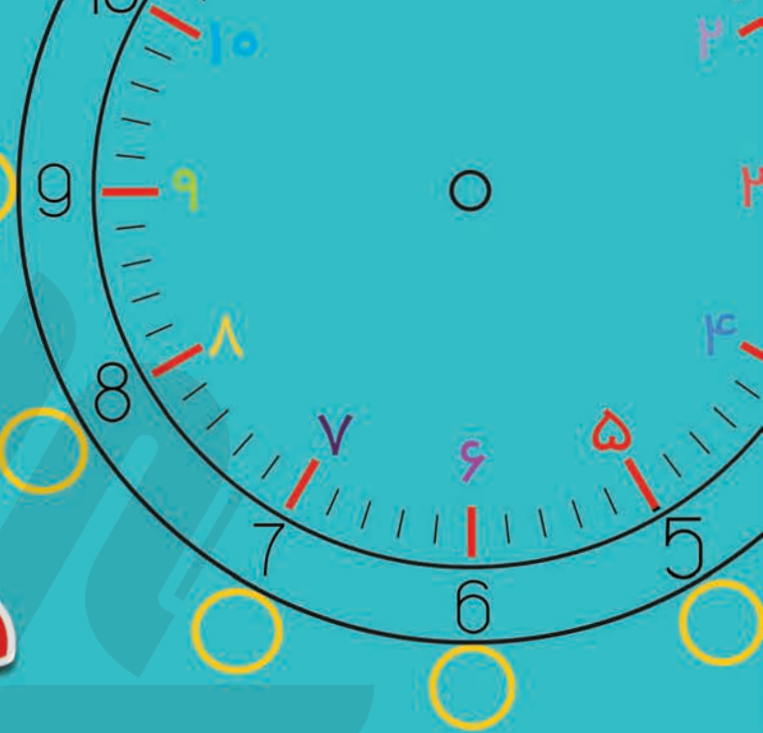


مشق اولی ها

# دفتر تمرین و تکرار

پایه اول ابتدایی



ریاضی  
فارسی  
وایت بردی



انتشارات گراد

عنوان و نام پدیدآور: دفتر تمرین و تکرار مشق اولی ها/ مولفان فاطمه ابارشی، افسانه ناصری؛ ویراستار علمی زهره ایزی.  
 مشخصات نشر: انتشارات گراد  
 مشخصات ظاهری: ۱۸ ص. مصور(رنگی): ۲۳×۲۴ س.م.  
 شابک: ۹۷۸-۶۲۲-۷۰۷۴-۶۷-۳  
 وضعیت فهرست نویسی: فیپا  
 موضوع: تمرین و تکرار-- راهنمای آموزشی  
 کودکان -- هوش آزمایبیدگیری مفاهیم -- راهنمای آموزشی (دوران اولیه کودکی)  
 شناسه افزوده: ناصری، افسانه  
 شناسه افزوده: ایزی، زهره، ویراستار  
 رده بندی کنگره: LB1140/8  
 رده بندی دیویی: ۳۷۲/۲۵  
 شماره کتابشناسی ملی: ۹۳۰۴۲۶۳  
 اطلاعات رکورد کتابشناسی: فیپا



مؤلف: فاطمه ابارشی، افسانه ناصری  
 ویراستار علمی: زهره ایزی  
 صفحه آرایی: لیلی نیک رزم  
 طرح جلد: لیلی نیک رزم  
 نوبت چاپ: اول ۱۴۰۳-۱۴۰۲  
 شمارگان: ۱۰۰۰۰ جلد  
 شابک: ۹۷۸-۶۲۲-۷۰۷۴-۶۷-۳  
 چاپ و صحافی: دقت  
 مرکز پخش: تهران، میدان انقلاب، خیابان کارگر شمالی، دفتر مرکزی  
 انتشارات گراد  
 مدیر فروش: ۰۹۱۹۰۲۰۴۱۶۱-۰۹۱۹۰۲۰۴۱۲۱



هرگونه کپی برداری کلی و جزئی از این مجموعه شرعاً و قانوناً ممنوع می باشد.



[www.gradpress.ir](http://www.gradpress.ir)



[grad\\_press](https://t.me/grad_press)




[@grad\\_press](https://www.instagram.com/grad_press)



# کلبه ی دوستی

نشانه ی جدید را بنویس و جدول را کامل کن.



جدول را کامل کن و برای هر کلمه، یک جمله بگو.

	کلمه
	بخش
	صدا

# جدول نظام دار +

مانند نمونه، شکل بکش و عبارت های جمع را کامل کن.



۱	
	•
•	

$$+ =$$

$$+ =$$

۲	
	••
•	•
••	

$$+ =$$

$$+ =$$

$$+ =$$

۳	

$$+ =$$

$$+ =$$

$$+ =$$

$$+ =$$

۴	

$$+ =$$

$$+ =$$

$$+ =$$

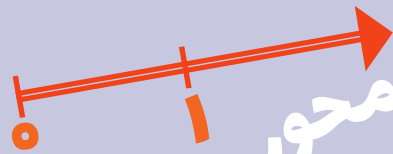
$$+ =$$

$$+ =$$

انتشارات گراد







# جمع و تفریق با محور

با توجه به محور، عبارت‌های جمع و تفریق را کامل کن.




$$\dots + \dots = \dots$$
$$\dots - \dots = \dots$$


محور زیر را تا ۲۰ شماره گذاری و کامل کن.



انتشارات گراد



$$\dots + \dots + \dots = \dots$$
$$\dots - \dots = \dots$$
$$\dots + \dots - \dots = \dots$$
$$\dots - \dots + \dots = \dots$$



# جدول اعداد




ابتدا جدول را کامل کنید؛ سپس الگوهای عددی را بنویس.

۰	۱	۲	۳	۴	۵	۶	۷	۸	۹
۱۰	۱۱	۱۲	۱۳	۱۴	۱۵	۱۶	۱۷	۱۸	۱۹
۲۰									
۹۰									۹۹



گروه آموزشی گراد



+



# بازی با خانواده ی اعداد



مانند نمونه هر بار دور یک عدد خط بکش؛ جمع های آن را داخل جدول پیدا کن و بنویس.



۱	۲	۳	۲	۲	۸	۸	۶	۷	۸
۴	۰	۵	۷	۸	۶	۱	۹	۰	۱۰
۳	۲	۱	۵	۳	۴	۱	۸	۷	۶
۱	۵	۳	۹	۴	۷	۹	۱	۱	
۴	۲	۶	۳	۱۰	۵	۸	۹	۷	
۶	۱۰	۴	۶	۲	۱	۴	۵	۸	
۵	۴	۱۰	۶	۲	۱	۱	۶	۲	
۶	۴	۷	۲	۳	۷	۲	۵	۱	۴
۱۰	۰	۹	۵	۶	۸	۴	۵	۰	۴
۷	۳	۲	۷	۹	۲	۳	۳	۲	۶

انتشارات کرد

$$۴ + ۶$$

$$۹ + ۱$$

۱۵

