


پیک نوروزی

پایه پنجم



ای!





خدایا !! تو خالق پروانه های زیبا هستی، خواب هایم را پر از پرواز کن.
 خدایا !! تو خالق گل های زیبا هستی، دنیایم را پر از گل کن.
 خدایا !! تو خالق رنگین کمان هستی، با پلی از رنگین کمان مرا به بهشت خودت ببر.

❁ فرزندم دعای لحظه ی تحویل سال، را بخوان و آن چه را از خدا می خواهی در یک سطر بنویس.

یا مغرب القلوب و الابصار
 یا مدبر اللیل و النهار
 یا محول الحول و الاحوال
 حول حالنا الی احسن الحال





آیات زیر را با لحن زیبا تلاوت کنید. این آیات قسمتی از سوره ی بقره می باشد که معروف به «آیه الکرسی» است. با کمک بزرگتر خود بنویسید که خواندن آیه الکرسی چه محاسنی دارد؟

آیه الکرسی

بِسْمِ اللَّهِ الرَّحْمَنِ الرَّحِيمِ
 اللَّهُ لَا إِلَهَ إِلَّا هُوَ الْحَيُّ الْقَيُّومُ لَا تَأْخُذُهُ سِنَّةٌ وَلَا نَوْمٌ لَمْ يَلَمْسْ فِي السَّمَاوَاتِ وَمَا فِي الْأَرْضِ مَنْ ذَا الَّذِي يَشْفَعُ عِنْدَهُ إِلَّا بِإِذْنِهِ يَعْلَمُ مَا بَيْنَ أَيْدِيهِمْ وَمَا خَلْفَهُمْ وَلَا يُحِيطُونَ بِشَيْءٍ مِنْ عِلْمِهِ إِلَّا بِمَا شَاءَ وَسِعَ كُرْسِيُّهُ السَّمَاوَاتِ وَالْأَرْضَ وَلَا يَئُودُهُ حِفْظُهُمَا وَهُوَ الْعَلِيُّ الْعَظِيمُ
 فَذُكِّرُوا بِاللَّيْلِ وَالنَّهَارِ وَلَا تَعْلَمُونَ إِنَّ اللَّهَ سَمِيعٌ عَلِيمٌ
 اللَّهُ وَلِيُّ الَّذِينَ آمَنُوا يُخْرِجُهُمْ مِنَ الظُّلُمَاتِ إِلَى النُّورِ وَالَّذِينَ كَفَرُوا أُولَئِكَ فِي الظُّلُمَاتِ
 أُولَئِكَ مَأْخُذَاتُ الْفَارِغِينَ فِيهَا يَخَالِدُونَ

بندی از لقمان حکیم

فرزندم !!


دین مانند درختی است که ایمان به خدا همچون آبی آن را می پروراند.

نماز: ریشه ی آن زکات: ساقه ی آن

درستی در راه خدا: شاخه های آن

اخلاق خوب: برگ های آن

دوری از کارهای حرام: میوه ی آن





بیشتر بدانیم:



دوست با هوش من آیا دایره ای را می شناسی که محیط و مساحت آن از نظر عددی با هم برابر باشند؟

۱) ۲۰٪ از ۴۰٪ قیمت یک کتاب، برابر با ۱۲۰ تومان است. قیمت این کتاب چند

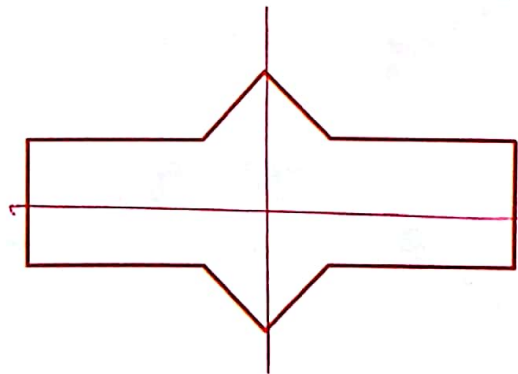
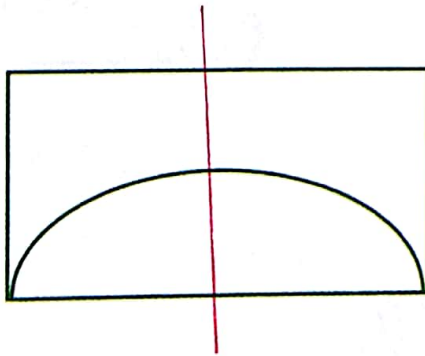
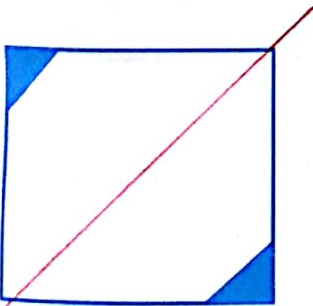
تومان است؟



$$\frac{20}{100} \times \frac{40}{100} = \frac{800}{10000} = \frac{8}{100}$$

$$\begin{array}{r|l} 20 & 120 \\ \times 40 & \\ \hline 800 & \\ \hline 1500 & \end{array}$$

۲) همه ی خط های تقارن شکل های زیر را رسم کنید.



۳) داریوش در روز ۲۵ شهریور سال ۱۳۸۰ متولد شده است. او اکنون چند سال دارد؟

روز	ماه	سال
۲۹	۸	۱۳۹۴
۲۵	۲	۱۳۸۰
۴	۲	۱۴
روز	ماه	سال



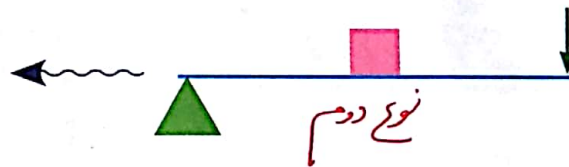



فرزندم، به نظر شما سفره ی هفت سین عیدتان در کجای خانه پهن شود تا سبزه در



بهترین شرایط رشد کند؟ در کجای آن نور در برابر اندازه های آن رشد همجنس آن را در منظم دسته با هم و از خاک رنگ باغبان است که رنگش

برای اهرم های خواسته شده تصویر بکشید یا بچسبانید.



لطیفه: امرار معاش و نویسندگی

سعید به دوستش: محسن برادرت که برای زندگی به شهر دیگر

رفته از چه راهی امرار معاش می کند؟

محسن: از راه نویسندگی.

سعید: چه می نویسد؟

محسن: هر ماه به پدرم نامه می نویسد تا برایش پول بفرستد.





آداب تلاوت قرآن

- ۱- طهارت و داشتن وضو.
- ۲- مسواک زدن، زدن عطر قبل از تلاوت آیات قرآن.
- ۳- پناه بردن به خدا از وسوسه ی شیطان.
- ۴- گفتن بسم الله الرحمن الرحيم.
- ۵- رعایت سکوت.
- ۶- با آداب نشستن روبه قبله و پوشیدن لباس تمیز.
- ۷- با دقت خواندن قرآن.
- ۸- زیبا خواندن قرآن.

دانستی های قرآن

اعجاز عددی قرآن: ۱۰۸ بار در قرآن واژه ی (اجر به معنی مزد) آمده است. و به همین اندازه (فعل: کار) آمده است.

کلمه ی (جزا) ۱۱۷ بار در قرآن به کار رفته و (مغفرت) ۳۳۴ بار، پس آموزش بیش از ۲ برابر کیفر به کار رفته است.

در قرآن لفظ ابلیس ۱۱ بار آورده و عیناً به همین تعداد فرمان به استعاذه (پناه بردن به خدا) تکرار شده است.





در جدول زیر خانه هایی که کسر بزرگ تر از واحد را نشان می دهد رنگ کنید و از کنار هم گذاشتن حرف اول کلمه های آن، رمز جدول را پیدا کرده و درباره ی آن توضیح دهید.

$\frac{2}{7}$	عمر	$\frac{5}{4}$	لباس ساده	$\frac{3}{5}$	غار حرا
$\frac{5}{9}$	عبدالله	$\frac{9}{8}$	ابوبکر	$\frac{2}{8}$	عثمان
$\frac{10}{6}$	تولد	$\frac{4}{16}$	عربستان	$\frac{9}{5}$	خدایچه
$\frac{1}{4}$	امین	$\frac{12}{3}$	فتح مکه	$\frac{5}{7}$	بعثت

Blank area with dashed lines for writing the answer.

هر کدام از صنایع را به استان محل آن وصل کنید.



فولاد



پتروشیمی



سازندگی





جدول مترادف ها



مترادف کلمات زیر را در جدول بنویسید.

- ۱- نامدار
- ۲- روشنایی
- ۳- داوری
- ۴- تالاب
- ۵- کاهلی
- ۶- یأس
- ۷- دورویی
- ۸- بحر
- ۹- ابرام

Word puzzle grid 1:

Clues: ۱ (horizontal), ۲ (vertical), ۳ (vertical), ۴ (vertical), ۵ (vertical)

Word puzzle grid 2:

Clues: ۶ (horizontal), ۷ (vertical), ۸ (vertical), ۹ (vertical)



بازی با رنگین کمان



در جدول زیر به بعضی از حروف الفبا کد داده شده است.

س	ن	م	ی	د	ل	ش	ق	ف	ز	ر	ج	ب	آ	ا	

از اطلاعات بالا استفاده کن و ستون « نام رنگ » را کامل کن.

رنگ دایره قرمز سوز

رنگ مربع سبز

نام رنگ	کد رنگ	شماره رنگ	نام رنگ	کد رنگ	شماره رنگ
.....		۲		۱
آبی		۴		۳
.....		۶		۵
.....		۷

رنگ مربع سبز



کلمه های به دست آمده پنج رنگ از هفت رنگ رنگین کمان است در مورد دو رنگ دیگر اطلاعات جدول را کامل کن.

حالا شکل یک رنگین کمان واقعی را رسم کن و آن را رنگ بزن.





تکلیف پیشنهادی معلم

Handwritten student work in Persian, including a drawing of a landscape with trees and a decorative flourish at the bottom.




سفره ی هفت سین

تصویری از سفره ی هفت سین بکشید و آن را رنگ آمیزی کنید.



گزارشی از یک مکان تاریخی یا تفریحی که عید نوروز به آنجا رفتید بنویسید.





ضرب المثل

«زبان سرخ، سر سبز را می دهد بر باد»

داستان: دزدی بوده که یک شب به قصد دزدی به کارگاه یک حریر باف می رود. در نیمه شب که وارد می شود متوجه می شود که حریر باف هنوز دارد کار می کند و همچنان با خود حرف می زند، خوب که گوش می دهد می بیند حریر باف با زبان خود حرف می زند و می گوید: ای زبان مبادا فردا سر مرا به باد بدهی و مرتب این جمله را تکرار می کند. دزد می ماند تا صبح و حریر باف پارچه گرانبهایی که بافته پیش پادشاه می برد، پادشاه از آن خوشش می آید. سؤال می کند این پارچه به چه دردی می خورد و آن مرد می گوید: آن را نگه دار تا موقعی که مردی روی تابوتت بگذارند پادشاه ناراحت می شود و دستور می دهد گردن او را بزنند. در این موقع دزد که آنجا بود خود را معرفی می کند و ماجرا را برای پادشاه تعریف می کند. پادشاه هم از کار و رفتار دزد خوشش آمد و پارچه را به او می دهد تا آن را بفروشد و دیگر دزدی نکند. حریر باف را هم تعدادی سکه می دهد و آزاد می کند. از آن موقع به بعد هر کس مراقب حرف هایش نباشد و حرف هایش سبب دردسر برای او شود این ضرب المثل را برای او به کار می برند.

فرزندم برای هر یک از کلمات زیر یک ضرب المثل بنویس.

موش: دهبوار موشی دارد. موشم روشن دارد.

بهار: از یک من هار نیست.

حلوا:

گنجشک:





حاصل عبارت های داده شده را از داخل حباب ها پیدا کنید و رنگ بزنید.

$75/3 - 30/65$
 $2/8$
 $(0/2 + 1/4) + (0/09 \times 20) = 3/4$
 $12/38$
 $2/95$
 $12/83$
 $2/108$
 $44/65$
 $26/65$
 $0/4 + 2/5 + 5/100$
 $2/08$
 $26/56$
 $25/65$
 $12/9 - \frac{7}{100} = 12,83$



بازی

از دوست خود بخواهید اعداد یک تا صد را با هم جمع کند و نتیجه را در کمتر از ۳۰ ثانیه به شما بگوید. یقیناً نه دوست شما و نه هیچ فرد تیزهوش دیگری اگر بخواهد تک تک اعداد را با هم جمع کند، در این فرصت کم نخواهد توانست.

ما به شما راهی می آموزیم که بتوانید این عمل را در کوتاه ترین زمان ممکن انجام دهید.

۱- اولین عدد (عدد یک) را با آخرین عدد (عدد صد) جمع کنید. $1 + 100 = 101$

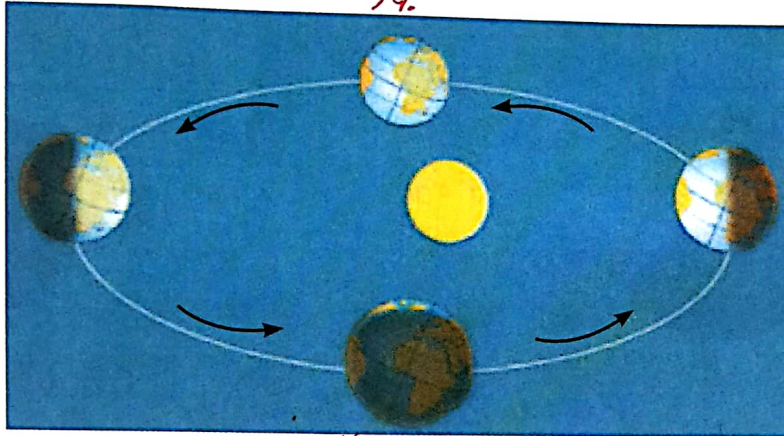
۲- نتیجه را در نصف آخرین عدد ضرب کنید. $101 \times 50 = 5050$

در همین زمان کوتاه می توانید حاصل جمع اعداد یک تا هزار و بیشتر را به دست آورید.



در نقشه ی زیر فصل ها را مشخص کنید.



۱۴.



تابستان

زمستان

برای تصویر زیر یک داستان کوتاه بنویسید.







پس از پیروزی انقلاب اسلامی مردم در روز ۱۱ فروردین ۱۳۵۸ به پای صندوق های رأی رفتند و بیش از ۹۸٪ آن ها به حکومت جمهوری اسلامی رأی «آری» دادند. حکومت ایران در تاریخ ۱۲ فروردین ۱۳۵۸ به جمهوری اسلامی تبدیل شد.

فرزندانم: حالا شما بنویسید در چه زمان های دیگری مردم ایران به پای صندوق های رأی می روند؟



فرزند خوبم! 

یک خاطره یا یک نقاشی از روز طبیعت (۱۳ فروردین) در این کادر طراحی کنید.





روز طبیعت



سیزدهم فروردین ماه هر سال، روز پایان جشن های نوروزی است. در این روز، مردم بنا بر سنتی فرهنگی، از خانه ها بیرون می آیند و به دشت و صحرا و باغ می روند تا آخرین روز عید را در طبیعت، و در کنار سبزه و گیاه و آب روان چشمه ها و جویبارها بگذرانند. این روز زیبا را، «روز طبیعت»

نام گذاری کرده اند؛ روزی که باید در کنار بهره مندی از طبیعت زیبا و آب و هوای نیکو، بکوشیم آن را به زبانه دانی همگانی تبدیل نسازیم و به همه نشان دهیم که «روز طبیعت» فقط یک شعار نیست؛ بلکه نشانه ی شعور بالای مردمی است که می خواهند سال های سال از این طبیعت زیبا بهره مند گردند.



شاخص ها	ارزیابی	خیلی خوب	خوب	قابل قبول	نیاز به تلاش بیشتر
میزان رضایت مندی از انجام تمرینات					
میزان درک و فهم تمرینات					
مسئولیت پذیری و اجرای زمان بندی برای انجام تکالیف					
داشتن دقت و تمرکز لازم برای انجام تمرینات					